

Révisoire académique de mathématiques : stage Tréma Ligne 1 d
novembre et décembre 2020 ; fiche numéro 3.

Exercice 3.1 Pour réviser la table des nombres premiers :

Soit $f(x)$ le nombre de nombres premiers p qui vérifient $x \leq p < x+10$.

Calculons $f(f(2021))$?

• Chercher $f(2021)$ consiste à trouver le nombre de nombres premiers entre 2021 et 2031.

2022, 2024, 2026, 2028 et 2030 sont des nombres pairs donc ils ne sont pas premiers.

2025 est divisible par 5 donc il n'est pas premier.

2031 est divisible par 3 car la somme de ses chiffres est divisible par 3 donc il n'est pas premier.

$2021 = 43 \times 47$ donc il n'est pas premier.

$2023 = 7 \times 289$ donc il n'est pas premier.

Les seuls nombres premiers entre 2021 et 2031 sont 2027 et 2029.

Donc $f(2021) = 2$

Calculons $f(2)$, c'est à dire le nombre de nombres premiers entre 2 et 12. Ce sont 2, 3, 5, 7 et 11.

Donc $f(2) = 5$ et donc $f(f(2021)) = 5$

Exercice 3.2 Tournoi entre amis

Dave a une probabilité p de gagner contre Alain, Bianca et Clem.

Au premier tour Dave a une probabilité p de gagner contre chacun des 3 adversaires.

En finale, il a aussi une probabilité p de gagner contre chacun des 3 adversaires.

Les deux événements étant indépendants, Dave a une probabilité de $(P \times P)$ de gagner le tournoi, soit P^2 .
 On cherche la probabilité pour Bianca de gagner le tournoi sachant que Alain, Chen et Bianca ont le même niveau, soit une probabilité de $\frac{1}{3}$ quand ils se rencontrent.

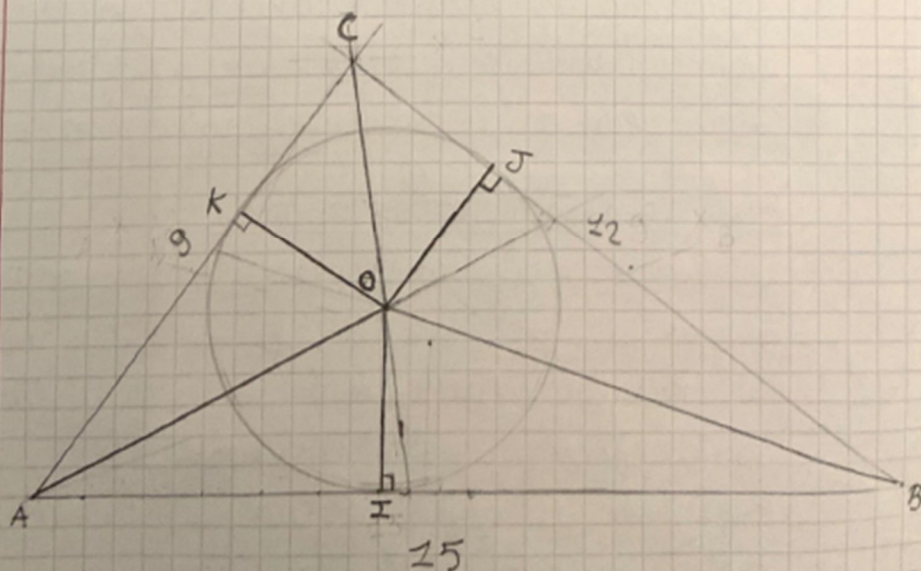
Donc Alain, Bianca et Chen ont la même probabilité de gagner le tournoi. C'est à dire, $\frac{1}{3}$ de la probabilité qu'il reste en prenant un compte la probabilité de gain, Paire, de Dave.

Comme Paire = P^2 ,

$$P_{\text{Bianca}} = \frac{1}{3} (1 - P^2)$$

Exercice 3.3 En suspension.

Soit ABC un triangle dont les côtés sont de longueur 9, 12 et 15 représentant les 3 tiges dans un plan horizontal. On place la sphère de rayon 5 de façon à ce qu'elle soit tangente à chacun des côtés.



Dans le plan horizontal du triangle ABC, la sphère forme donc un cercle inscrit dans le triangle, tangent à chacun des 3 côtés du triangle. On sait que O, centre du cercle inscrit est le point d'intersection des 3 bissectrices du triangle. Le cercle est tangent en I, J et K. Donc $(OI) \perp (AB)$, $(OJ) \perp (BC)$, $(OK) \perp (AC)$.

Soit r le rayon du cercle. Calculons sur la des 3 triangles ABO, BCO, ACO, sachant que les hauteurs sont égales à r .

$$A_{ABO} = \frac{AB \times r}{2} = \frac{15r}{2}$$

$$A_{BCO} = \frac{BC \times r}{2} = \frac{12r}{2} = 6r$$

$$A_{ACO} = \frac{AC \times r}{2} = \frac{9r}{2}$$

Comme $A_{ABC} = A_{ABO} + A_{BCO} + A_{ACO}$

$$A_{ABC} = \frac{15 + 12 + 9}{2} = 18r$$

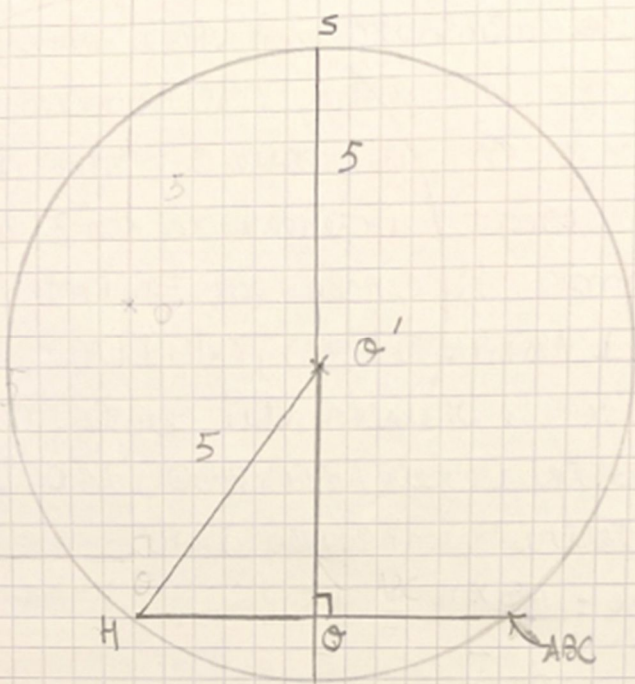
$$\text{donc } r = \frac{A_{ABC}}{18}$$

Comme ABC est rectangle en C, $A_{ABC} = \frac{AC \times BC}{2}$

$$A_{ABC} = \frac{9 \times 12}{2} = 54$$

$$\text{donc } r = \frac{A_{ABC}}{18} = \frac{54}{18} = 3$$

Plaçons nous dans le plan vertical par rapport au plan horizontal du triangle ABC



Pour calculer à quelle hauteur du haut de la sphère se trouve le plan du triangle, il faut calculer la distance OO' . D'après le théorème de Pythagore dans le triangle $HO'O$ rectangle en O .

$$OO'^2 + 3^2 = 5^2$$

$$OO'^2 = 25 - 9 = 16$$

$$OO' = 4$$

Donc $OS = OO' + O'S = 4 + 5 = 9$.

Le plan du triangle se trouve à 9 du sommet de la sphère.

Exercice 3.4 Solutions pour une solution.

$$\sqrt{x-127} + \sqrt{k-x} = 13$$

Pour que l'équation soit définie il faut

$$\text{que : } x-127 \geq 0 \Leftrightarrow x \geq 127$$

$$\text{et } k-x \geq 0 \Leftrightarrow k \geq x$$

Comme $\sqrt{x-127} \geq 0$ et $\sqrt{k-x} \geq 0$,

On doit aussi avoir: $\sqrt{x-127} \leq 13$

$$\iff x-127 \leq 169$$

$$\iff x \leq 296$$

Donc $x \in [127, 296]$ et $k \geq x$ avec k entier naturel.

$$\sqrt{x-127} + \sqrt{k-x} = 13$$

$$\iff \sqrt{k-x} = 13 - \sqrt{x-127}$$

$$\iff k-x = 169 - 26\sqrt{x-127} + x - 127$$

$$\iff k = 2x + 42 - 26\sqrt{x-127}$$

Cherchons pour quelle valeur de x , k est minimum sachant que k est un entier.

$$\text{Soit } f(x) = 2x + 42 - 26\sqrt{x-127}$$

Étudions les variations de $f(x)$ sur l'intervalle $[127, 296]$

$$f'(x) = 2 - \frac{26}{2\sqrt{x-127}} = 2 - \frac{13}{\sqrt{x-127}}$$

Étudions le signe de $2 - \frac{13}{\sqrt{x-127}}$ avec $x \neq 127$

$$2 - \frac{13}{\sqrt{x-127}} = \frac{2\sqrt{x-127} - 13}{\sqrt{x-127}}$$

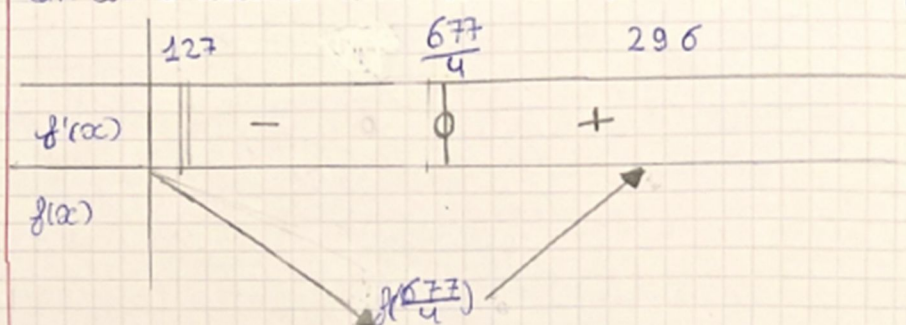
On cherche donc la valeur qui annule le numérateur car c'est lui qui détermine le signe sachant que le dénominateur est positif. On a donc:

$$2\sqrt{x-127} - 13 = 0$$

$$\sqrt{x-127} = \frac{13}{2}$$

$$x = \frac{169}{4} + 127 = \frac{677}{4}$$

On en déduit le tableau de variation de $f(x)$.



Le minimum de la fonction est atteint pour $x = \frac{677}{4}$, $f(\frac{677}{4}) = 212,5$

On cherche k entier le plus petit possible, donc $\boxed{k = 212}$

Cherchons les valeurs de x pour $k = 212$.

$$\sqrt{x-127} + \sqrt{212-x} = 13$$

$$x - 127 + 212 - x + 2\sqrt{x-127}\sqrt{212-x} = 169$$

$$\sqrt{x-127}\sqrt{212-x} = 42$$

$$\Leftrightarrow (x-127)(212-x) = 1764$$

$$\Leftrightarrow -x^2 + 127x + 212x - 127 \times 212 = 1764$$

$$\Leftrightarrow x^2 + 339x - 28688 = 0$$

$$\Delta = 169 = 13^2$$

$$x_1 = \frac{-339 + 13}{-2} = \boxed{163}$$

$$x_2 = \frac{-339 - 13}{-2} = \boxed{176}$$

Les solutions correspondant à cette valeur sont 163 et 176.

Exercice 3.5 Suite d'entiers

Soit $x_{m+1} = (x_m)^2 + 1$ avec x_0 entier positif ou nul et m entier.

1. Soit x_0 entier de départ

$$x_1 = x_0^2 + 1$$

$$x_2 = (x_1)^2 + 1 = (x_0^2 + 1)^2 + 1 = x_0^2 + 2x_0 + 2$$

$$x_2 - x_0 = x_0^2 + x_0 + 2$$

Si x_0 est pair, alors x_0^2 est paire et $(x_0^2 + x_0)$ est pair, donc $x_2 - x_0$ est pair.

Si x_0 impair, x_0^2 est impaire et donc $(x_0^2 + x_0)$ est la somme de deux nombres impaires et est donc pair. Donc $x_2 - x_0$ est pair.

Donc $\forall x_0$, $x_2 - x_0$ est pair.

2, Cherchons pour quel x_0 , $x_6 - x_0$ est un multiple de 10.

Il suffit de montrer que $x_6 - x_0$ se termine par 0 et donc que x_6 et x_0 se terminent par le même chiffre.

Si x_0 se finit par 0, $x_1 = x_0^2 + 1$ se finit par 1, $x_2 = x_1^2 + 1$ se finit par 2, $x_3 = (x_2)^2 + 1$ se finit par $2 \times 2 + 1 = 5$, $x_4 = (x_3)^2$ se finit par $(5 \times 5)^2 + 1 = 26$ donc par 6, $x_5 = (x_4)^2 + 1$ donne $(6 \times 6) + 1 = 37$, il se finit par 7 et $x_6 = (x_5)^2 + 1$ donne $(7 \times 7) + 1 = 50$ et se finit par 0.

Donc $x_6 - x_0$ se finit par 0. Le cycle de chiffres des 0, 1, 2, 5, 6, 7, 0 va se continuer.

Si x_0 se finit par 1, on va retomber sur le même cycle 1, 2, 5, 6, 7, 0, 1. Donc x_6 finit par 1 donc $x_6 - x_0$ se finit par 0.

Il en est de même pour x_0 , se finissant par 2, 5, 6 et 7.

Cependant, si x_0 se finissant par 3, et égal à 3, $x_1 = x_0^2$ va se finir par $3 \times 3 + 1 = 10$ donc par 0 et on retrouve le cycle 0, 1, 2, 5, 6. Donc x_6 me

se terminera pas par 3 donc $x_6 - x_0$ non multiple de 20.

Pour x_0 se terminant par 4, $x_1 = x_0^2 + 1$ se terminera par $4 \times 4 + 1 = 17$ et en retrouvant le cycle donc x_6 ne se terminera pas par 4.

De même pour x_0 se terminant par 8, $8^2 + 1 = 65$ donc se termine 5. De même pour x_0 se terminant par 9, $9 \times 9 + 1 = 82$, donc se terminera par 2.

Au final, $x_6 - x_0$ est un multiple de 20 pour tout x_0 nombre entier se terminant par 0, 1, 2, 5, 6, 7.

Problème 3.6 Passage de comarbo

Soit $f(x, y) = x^2 - 2y^2$ x et y entiers naturels

$$\begin{aligned} 1. a. f(3x+4y, 2x+3y) &= (3x+4y)^2 - 2(2x+3y)^2 \\ &= 9x^2 + 24xy + 16y^2 - 8x^2 - 18y^2 - 24xy \\ &= x^2 - 2y^2 \end{aligned}$$

$$\begin{aligned} 1. b. f(x, y) f(u, v) &= (x^2 - 2y^2)(u^2 - 2v^2) \\ &= x^2 u^2 - 2y^2 u^2 - 2x^2 v^2 + 4y^2 v^2 \end{aligned}$$

$$\begin{aligned} f(xu+2yv, xv+yu) &= (xu+2yv)^2 - 2(xv+yu)^2 \\ &= x^2 u^2 + 4xyuv + 4y^2 v^2 - 2x^2 v^2 - 2y^2 u^2 - 4xyuv \end{aligned}$$

$$2. a. f(45, 2) = 45^2 - 2 \times 2^2 = 2025 - 8 = 2017$$

donc $(45, 2)$ solution de $f(x, y) = 2017$

D'après 1. a., $f(x, y) = f(3x+4y, 2x+3y)$,

$$\begin{aligned} \text{donc } f(45, 2) &= f(3 \times 45 + 4 \times 2, 2 \times 45 + 3 \times 2) = 2017 \\ &= f(143, 96) = 2017 \end{aligned}$$

$(143, 96)$ est solution de $f(x, y) = 2017$

De même avec le 1. a., $f(2 \times 143 + 3 \times 96, 143 + 3 \times 96) = 2017$

$$f(813, 574) = 2012$$

$(813, 574)$ est solution de $f(x, y) = 2017$

2. b. D'après le 2. a. $f(42, 2) = 2017$

D'après le 1. b. $f(x, y) \cdot f(u, v) = f(xu + 2yv, xv + yu)$

Prenons $u = 2$ et $v = 1$ $f(2, 1) = 4 - 2 = 2$

donc $f(45, 2) \times f(2, 1) = 2 \times 2017 = f(45 \times 2 + 2 \times 2, 45 \times 1 + 2 \times 2)$

donc $4034 = f(94, 49)$

donc $(94, 49)$ solution de $f(x, y) = 4034$.

• si on prend $u = 1$ et $v = 1$ $f(1, 1) = -1$

donc $-2017 = f(45, 2) \times f(1, 1) = f(45 \times 1 + 4, 45 + 2)$

$-2017 = f(49, 47)$

donc $(49, 47)$ solution de $f(x, y) = -2017$

3. a. Si (a, b) est solution de $f(a, b) = 3$

$$3 = a^2 - 2b^2$$

Comme $2b^2$ est pair, a^2 doit être impair pour que $a^2 - 2b^2$ soit un nombre impair. Donc a est impair.

3. b. soit $a = 2a' + 1$

$$3 = (2a' + 1)^2 - 2b^2 = 4a'^2 + 4a' + 1 - 2b^2$$
$$= 2(2a'^2 + 2a' - b^2) + 1$$

$$2 = (2a'^2 + 2a' - b^2)^2$$

$$2a' + 2a - b = \pm 1$$

Or, $2a' + 2a$ est pair & impair

3. c. On cherche a et b tels que $f(a, b) = 3$

D'après 3. b, $a = 2a' + 1$ car a est impair.

D'après le 3. b on a montré que b est impair

donc $b = 2b' + 1$

$$f(a, b) = 3$$

$$\iff a^2 - 2b^2 = 3$$

$$\iff (2a+1)^2 - 2(2b+1)^2 = 3$$

$$\iff 4a^2 + 4a + 1 - 8b^2 - 8b - 2 = 3$$

$$\iff 4(a^2 + a - 2b^2 - 2b) = 4$$

$$\iff a^2 + a - 2b^2 - 2b = 1$$

On sait que $-2b$ est impair. Il faut donc que $a^2 + a$ soit impair pour vérifier l'égalité à 1. Or, si a est pair $a^2 + a$ est pair. Si a est impair a^2 est impair et $(a^2 + a)$ est pair.

Donc l'équation n'a pas de solution.

4. a.

On sait que $T_a = 2T_b$

$$\text{d'où } \frac{a(a+1)}{2} = \frac{2b(b+1)}{2}$$

$$a(a+1) = 2b(b+1)$$

$$\begin{aligned} f(2a+1, 2b+1) &= (2a+1)^2 - 2(2b+1)^2 \\ &= 4a^2 + 4a + 1 - 8b^2 - 8b - 2 \\ &= 4a(a+1) - 4 \cdot 2b(b+1) - 1 \\ &= 4[a(a+1) - 2b(b+1)] - 1 \end{aligned}$$

Comme $a(a+1) = 2b(b+1)$,

$$\text{alors } f(2a+1, 2b+1) = -1$$

b. On sait que n le nombre de canards aperçus par Tartarin est compris entre 200 et 1000.

$$T_{23} = 91$$

$$T_{24} = 105 \text{ et } T_{44} = 290 \text{ et } T_{45} = 1035$$

Donc $24 \leq a \leq 35$ On sait que $b < a$

$$\text{d'où } b \leq 35$$

Pour chercher a et b on peut faire un algorithme.

Pour a de 14 à 35, et b de 1 à 35.

Calculer $f(2a+1, 2b+1)$

si résultat $= -1$

renvoyer (a, b)

On trouve une seule solution $(20, 14)$

donc $a=20$ et m le nombre de canards est
égal à $\frac{20 \times 21}{2} = 210$

5. Soit m le nombre de canards de l'année

On sait que $1000 \leq m \leq 2000$

Or, $T_{44} = 990$ $T_{45} = 1035$ $T_{62} = 1953$ $T_{63} = 2016$

Donc, soit a le nombre de rangs du triangle
initial.

$45 \leq a \leq 62$

Après le coup de fusil les canards forment
un carré... Donc il faut calculer pour
 $45 \leq a \leq 62$ et trouver les solutions
donnant un nombre entier.

On peut faire un algorithme.

Pour a de 45 à 62

Calculer $\frac{\sqrt{a(a+1)}}{2} = S$

Si S entier

renvoyer a

On trouve une seule solution: $a=49$.

et donc $m = \frac{49 \times 50}{2} = 1225$

Cherchons les effectifs dans chaque triangle
à la fin du vol.

Il faut trouver b et c tels que

$T_b + T_c = T_a = 1225$

On sait que $a = 45$ donc $a \leq 45$

Faisons un algorithme ^{et $b \leq 45$} .

Pour b de 1 à 45 et c de 1 à 45

Calculer $\frac{b(b+1)}{2} + \frac{c(c+1)}{2} = S$

Si $S = 2035$

renvoyer (a, b)

• On trouve deux couples de solutions:

$(29, 45)$ et $(34, 35)$

Les effectifs sont respectivement $(290, 2035)$ et

$(595, 630)$.